



**Prefeitura
de Rolândia**

**SECRETARIA MUNICIPAL DE EDUCAÇÃO
ATIVIDADES COMPLEMENTARES DE ESTUDO – COVID 19**



**ROTEIRO DE ATIVIDADES COMPLEMENTARES DE ESTUDO – COVID 19
14º ROTEIRO**

ESCOLA MUNICIPAL SÃO FERNANDO TURMA: 2º ANO CLASSE ESPECIAL
PROFESSOR: ISABEL MARIA DOS SANTOS, DENISE, DANIELA ROSA, JESUEL
COMPONENTES CURRICULARES: LÍNGUA PORTUGUESA – MATEMÁTICA – HISTÓRIA –
GEOGRAFIA – CIÊNCIAS – EDUCAÇÃO FÍSICA – ARTE – LÍNGUA INGLESA.
PERÍODO DE REALIZAÇÃO: 10 A 14 DE AGOSTO DE 2020.

Senhores pais e responsáveis

Vocês estão recebendo as **Atividades Complementares de Estudo para o período de isolamento-COVID 19**. Necessito muito de sua participação para que essas atividades sejam realizadas pelo seu filho. Os senhores precisam organizar um tempo, em casa, para a realização das atividades e para que seu filho possa estudar com tranquilidade.

No roteiro a seguir estão as atividades e todas as orientações para sua execução. Tudo está descrito de forma simples. Mas se houver alguma dúvida podem entrar em contato comigo pelo *Whatsapp*, estarei à disposição para ajudar.

Seu filho deverá realizar todas as atividades no **caderno de casa**. Ele terá o período 10 a 14-08 para concluir essas atividades. Na sexta-feira, dia 14-08, será postado o roteiro corrigido para que se faça as correções.

Cuidem-se e cuidem de sua família. Em breve tudo estará bem.

Um abraço,
Professora

Assista as vídeo aulas pela televisão canal 52 ou 53 todos os dias:

15:30 horas às 16:15

16:15 horas às 17:00

17:00 horas às 17:30

ou pelo Youtube → **Digita: YouTube canal TV escola Curitiba**

→ **quando abre a página, clica em vídeos**

Daí aparece todos os vídeos disponibilizados.

ATENÇÃO: O professor regente estará disponível para esclarecer dúvidas sobre as atividades de **segunda, terça, quarta, e quinta no seu horário de trabalho.**

Na **SEXTA FEIRA**, ele estará planejando, sendo assim, quem dará as orientações serão os professores das disciplinas específicas.

Grata pela compreensão!!

VÍDEO OU ÁUDIO DO PROFESSOR	OUVIR O ÁUDIO OU VÍDEO EXPLICATIVO DO PROFESSOR. ASSISTIR AS VIDEOAULAS:
O QUE VAMOS ESTUDAR?	<p>LÍNGUA PORTUGUESA: Gênero textual: Literatura de Cordel O circo das Formas Marco Haurélio e entrevista Rodrigo Botura. Compreensão e interpretação; Elementos de apresentação e unidade estrutural do gênero textual; Sistema de escrita alfabética; Sinais de pontuação; Ortografia.</p> <p>HISTÓRIA: História de vida da criança, da família e da comunidade</p> <p>GEOGRAFIA: Paisagem e suas transformações. Paisagem em transformação: produção, circulação e consumo.</p> <p>MATEMÁTICA: Cálculo mental; Coleta de dados. - Tabelas ou quadros simples e de dupla entrada. - Gráfico de barras ou colunas. - Gráficos pictóricos.</p> <p>CIÊNCIAS: A vida nas regiões geladas da Terra.</p> <p>ENSINO RELIGIOSO: Memórias e símbolos Símbolos religiosos Festas religiosas.</p> <p>EDUCAÇÃO FÍSICA: Brincadeiras e jogos da cultura popular presentes no contexto comunitário local e regional.</p> <p>ARTE: Percussão Corporal. Jogos musicais: percussão corporal em cantigas de roda.</p> <p>LÍNGUA INGLESA: Repertório lexical relacionado aos números: 1 a 20</p>
PARA QUE VAMOS ESTUDAR ESSES CONTEÚDOS?	<ul style="list-style-type: none"> ❖ Reconhecer o gênero textual literatura de cordel; ❖ Desenvolver a leitura e interpretação do texto; ❖ Desenvolver a escrita; ❖ Selecionar e compreender o significado de objetos e documentos pessoais como fontes de memórias e histórias nos âmbitos pessoal, familiar e comunitário; ❖ Ampliar os conhecimentos sobre paisagem natural e transformada; ❖ Desenvolver o cálculo mental; ❖ Desenvolver a leitura e interpretação de gráfico de barras ou colunas. - Gráficos pictóricos; ❖ A vida nas regiões geladas da Terra. ❖ Conhecer símbolos e festas religiosas; ❖ Experimentar, fruir e recriar diferentes brincadeiras e jogos da cultura popular. ❖ Cantar músicas e executar jogos e brincadeiras cantadas, do repertório musical brasileiro, identificando gêneros musicais variados, percebendo a diversidade existente. ❖ Reconhecer e analisar a influência de distintas matrizes estéticas e culturais das artes visuais nas manifestações artísticas das culturas locais, regionais. ❖ Conhecer e compreender com o apoio do professor sobre os números que servirão de subsídios para a aquisição do próprio repertório lexical.
COMO VAMOS ESTUDAR OS CONTEÚDOS?	<ul style="list-style-type: none"> ❖ Com ajuda de algum familiar; ❖ Organizando os estudos; ❖ Em seu caderno escreva o cabeçalho e coloque a data em que irá realizar as atividades.
COMO VAMOS REGISTRAR O QUE APRENDEMOS?	<ul style="list-style-type: none"> • Lendo e escrevendo; • Interpretando o texto; • Completando palavras; • Fazendo as atividades;

- Identificando a paisagem;
- Fazendo a leitura de imagens;
- Brincando;
- Desenhando e pintando;
- Cantando.

ESCOLA MUNICIPAL SÃO FERNANDO.

ROLÂNDIA, 10 DE AGOSTO DE 2020.

SEGUNDA-FEIRA – DISCIPLINAS: LÍNGUA PORTUGUESA - HISTÓRIA – GEOGRAFIA

LÍNGUA PORTUGUESA

ASSISTA A VÍDEOAULA: <https://www.youtube.com/watch?v=8tdlrs4xKs8&t=1153s>

1- COM A AJUDA DE UM FAMILIAR, FAÇA A LEITURA DO TEXTO ABAIXO SOBRE LITERATURA DE CORDEL.

VOCÊ CONHECE LITERATURA DE CORDEL

A LITERATURA DE CORDEL TEVE ORIGEM NO BRASIL NO COMEÇO DO SÉCULO XX, NO NORDESTE. OS ARTISTA DO CORDEL RECEBEM NOME DE TROVADORES. ELES CONTAM HISTÓRIAS EM PEQUENOS LIVROS, E AS HISTÓRIAS SÃO RIMADAS COMO POESIA. CONTAM AS HISTÓRIAS DA VIDA DOS CANGACEIROS, HISTÓRIAS FANTÁSTICAS, FATOS POLÍTICOS E ENGRAÇADOS E, TAMBÉM DE AMOR E SUAS PRÓPRIAS HISTÓRIAS. OS TROVADORES VENDEM SEUS LIVROS EM FEIRAS LIVRES, AMARRADOS EM UMA LINHA DE BARBANTE (DAI O NOME, LITERATURA DE CORDEL). AS CAPAS DOS LIVROS SÃO FEITAS EM GRAVURAS.



HISTÓRIA

CONHECENDO A HISTÓRIA DE ROLÂNDIA

ROLÂNDIA NÃO FOI SEMPRE COMO A CONHECEMOS HOJE, NEM SEMPRE POSSUIU PRÉDIOS, INDUSTRIAS, PLANTAÇÕES E TANTOS HABITANTES!

DEVEMOS VOLTAR NO TEMPO E CONHECER COMO ERA A VIDA DAS PESSOAS QUE AQUI CHEGARAM, (OS PIONEIROS), PARA ENTENDERMOS COMO ACONTECEU A HISTÓRIA DO NOSSO MUNICÍPIO.

ROLÂNDIA ERA ASSIM.



HOJE É ASSIM.



1- LEIA O TEXTO COM ATENÇÃO E RESOLVA AS ATIVIDADES.

NO DIA 29 DE JUNHO DE 1934, INICIOU-SE A CONSTRUÇÃO DA PRIMEIRA CASA NO PERÍMETRO URBANO, O HOTEL ROLÂNDIA. DAÍ PARA FRENTE, AS CONSTRUÇÕES SE SUCEDERAM E UMA PRÓSPERA VILA EMERGIU ONDE ERA MATA. NASCIA ROLÂNDIA.

O NOME DE ROLÂNDIA É DE ORIGEM GERMÂNICA, DADO EM HOMENAGEM A ROLAND, LEGENDÁRIO HERÓI FRANCÊS, QUE NA IDADE MÉDIA GUERREAVA AO LADO DE SEU TIO, CARLOS MAGNO, E SEU LEMA ERA LUTAR PELA “LIBERDADE E JUSTIÇA”.

COMO A COMPANHIA DE TERRAS PRECISAVA DE MATERIAL PARA LEVAR A ESTRADA DE FERRO ATÉ ROLÂNDIA E A ALEMANHA POSSUÍA ESTE MATERIAL (TRILHOS, ETC), FICOU COMBINADO QUE O DINHEIRO DO IMIGRANTE FICARIA NA PRÓPRIA ALEMANHA. O IMIGRANTE COMPRARIA O MATERIAL FERROVIÁRIO QUE A COMPANHIA DE TERRAS PRECISAVA E, EM TROCA, RECEBIA TÍTULOS QUE EQUIVALIAM A TERRAS EM ROLÂNDIA. GRAÇAS A ESTA FORMA DE PERMUTA, A COMPANHIA DE TERRAS CONSEGUIU O PROLONGAMENTO DA ESTRADA DE FERRO ATÉ ROLÂNDIA. EM JANEIRO DE 1935, CHEGAVA PELA PRIMEIRA VEZ NA CIDADE A FAMOSA MARIA FUMAÇA. A CONTRIBUIÇÃO DOS IMIGRANTES ESTRANGEIROS E DOS MIGRANTES BRASILEIROS FOI DE FUNDAMENTAL IMPORTÂNCIA NO DESENVOLVIMENTO DA CIDADE.

A) QUANDO INICIOU-SE A CONSTRUÇÃO DA PRIMEIRA CASA EM ROLÂNDIA?

B) O NOME DE ROLÂNDIA É DE ORIGEM _____, DADO EM HOMENAGEM A ROLAND, LEGENDÁRIO HERÓI FRANCÊS.

C) COMPLETE COM AS VOGAIS QUE FALTAM E DESCUBRA O NOME DESSA ESTÁTUA, QUE FICA NO CENTRO DA CIDADE DE ROLÂNDIA.



___ST___T___

R___L___ND

GEOGRAFIA

ASSISTA VIDEO AULA: https://youtu.be/AoOllwU_Ug8

VOCÊ SABIA QUE AS AÇÕES NATURAIS E CULTURAIS MODIFICARAM AS PAISAGENS COM O PASSAR DOS ANOS?

OBSERVE AS IMAGENS E DESCUBRA QUAIS SÃO OS FENÔMENOS NATURAIS QUE PROVOCARAM A MUDANÇA DA PAISAGEM


TERREMOTO



FURACÃO



NEVE



AÇÃO DO VENTO



1- AGORA VAMOS COMPLETAR A CRUZADINHA.

AGENTES NATURAIS



T
N E



C Ã O



V E N

V U L



2- OBSERVE A DIFERENÇA ENTRE AS CONSTRUÇÕES DA IGREJA MATRIZ SÃO JOSÉ DE ROLÂNDIA. ELA SOFREU INFLUÊNCIA CULTURAL.



A) O QUE MUDOU?

B) O QUE CONTINUA IGUAL?

MATEMÁTICA

ASSISTIR A VÍDEOAULA: <https://www.youtube.com/watch?v=o6kzfAdya28>

1) DESCUBRA OS RESULTADOS DAS SUBTRAÇÕES UTILIZANDO O CÁLCULO MENTAL:

$90 - 20 =$ _____ $80 - 30 =$ _____ $50 - 10 =$ _____

$20 - 10 =$ _____ $30 - 20 =$ _____ $70 - 30 =$ _____

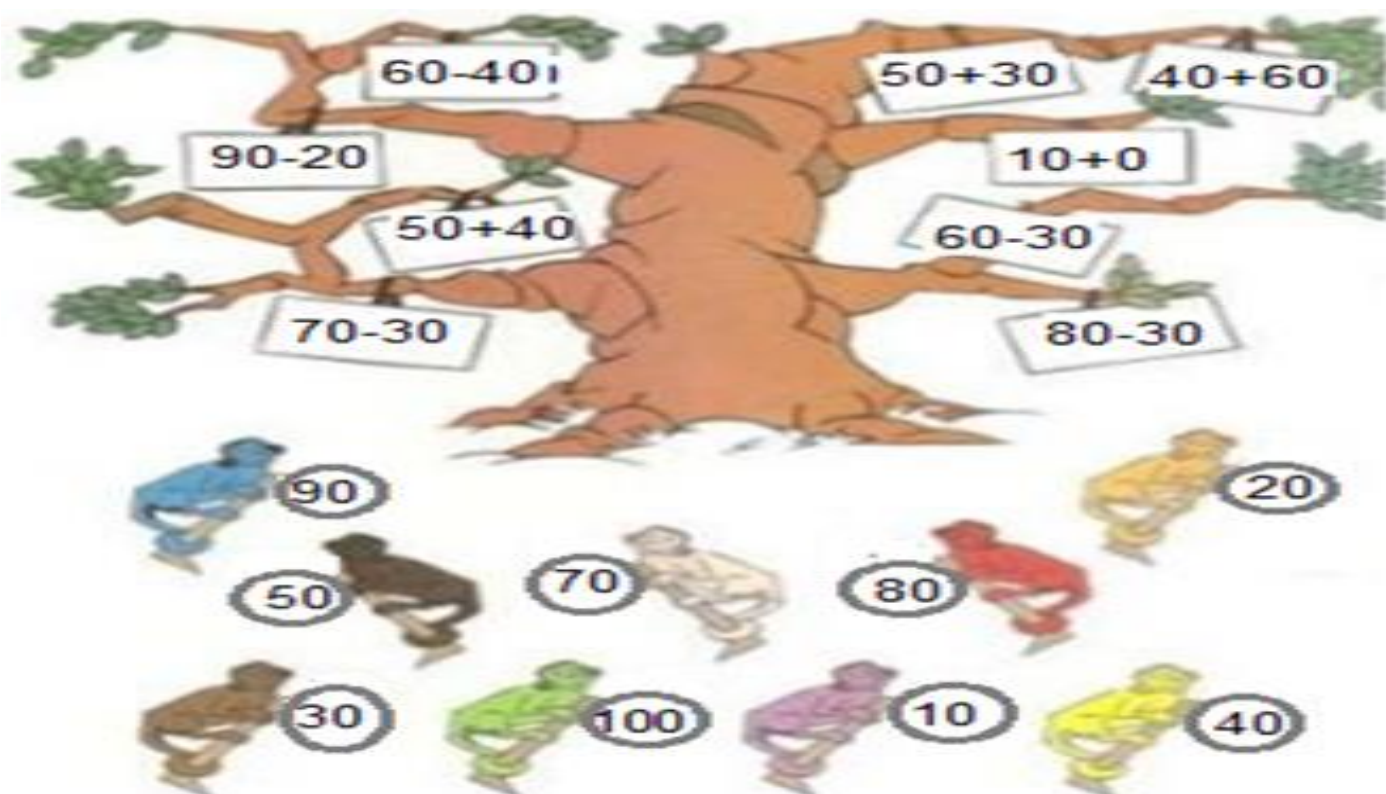
2) CALCULE AS ADIÇÕES ATRAVÉS DO CÁLCULO MENTAL:

$90 + 20 =$ _____ $80 + 30 =$ _____ $50 + 10 =$ _____

$20 + 10 =$ _____ $30 + 20 =$ _____ $70 + 30 =$ _____

$90 +$ _____ $= 100$ $80 +$ _____ $= 100$ $50 +$ _____ $= 100$

3) CADA MACACO TEM SEU GALHO. AJUDE-OS A ENCONTRAR, CALCULANDO AS ADIÇÕES E SUBTRAÇÕES E LIGANDO CADA RESULTADO AO MACACO CORRESPONDENTE:



CIÊNCIAS

ASSISTA A VIDEOAULA: <https://www.youtube.com/watch?v=YNlo-53Br5U&list=PLnGI1S4-A8rvPdqfKmHL-RzfrGbbyBEKf&index=10>

1- COM A AJUDA DE UM FAMILIAR LEIA O TEXTO DEPOIS RESPONDA:

REGIÕES GELADAS DA TERRA

O PLANETA TERRA POSSUI DUAS REGIÕES POLARES, SENDO ELAS O **POLO NORTE E O POLO SUL**, AS QUAIS SÃO AS REGIÕES MAIS FRIAS QUE EXISTEM. SÃO REGIÕES QUE ESTÃO LOCALIZADAS ENTRE OS POLOS E OS CHAMADOS CÍRCULOS POLARES: CÍRCULO POLAR ÁRTICO (NORTE) E CÍRCULO POLAR ANTÁRTICO (SUL).

A **REGIÃO POLAR DO ÁRTICO OU POLO NORTE** ESTÁ LOCALIZADA NO HEMISFÉRIO NORTE DA TERRA ESSA REGIÃO É BANHADA PELO OCEANO GLACIAL ÁRTICO, E AS ÁGUAS DESTES SÃO COBERTAS POR GRANDES BANCOS DE GELO, AS QUAIS SOFREM VARIAÇÕES EM CONFORMIDADE COM A ÉPOCA DO ANO. **ANIMAIS ENCONTRADOS NO POLO NORTE: URSO POLAR, RAPOSA DO NORTE, LOBO MARINHO, RENAS, CORUJA DO ÁRTICO ENTRE OUTROS.** SUA PELAGEM SÃO TOTALMENTE BRANCA PARA SEREM CONFUNDIDOS COM A NEVE E ASSIM SE ESCONDEREM DE PREDADORES.

A **REGIÃO POLAR ANTÁRTICA OU POLO SUL** LOCALIZA-SE NO HEMISFÉRIO SUL DO PLANETA TERRA. AS PRECIPITAÇÕES (MUDANÇA DE CLIMA) OCORREM EM FORMA DE NEVE SENDO UM LOCAL EXTREMAMENTE SECO E FRIO. POUCOS ANIMAIS SUPORTAM AS CONDIÇÕES EXTREMAS DA ANTÁRTICA SENDO COMUM A PRESENÇA DE **FOCAS, ALBRATROZES, PINGUINS, BALEIAS E O KRILL (ANIMAL PARECIDO COM CAMARÃO).**

A) VOCÊ JÁ TINHA OUVIDO FALAR NESSES LUGARES GELADOS DA TERRA? VOCÊ GOSTARIA DE CONHECER UM DELES? PORQUE?

B) SEGUNDO O TEXTO ESCREVA EM QUAL DOS POLOS: **NORTE OU SUL** HABITAM ESSES ANIMAIS:



C) QUAL A COR PREDOMINANTE DA PELAGEM DOS ANIMAIS DO POLO NORTE?

() AMARELO

() BRANCO

() PRETO

D) SE VOCÊ FOSSE PARA O POLO NORTE OU PARA O POLO SUL, QUAL DOS ACESSÓRIOS ABAIXO VOCÊ LEVARIA NA SUA MALA? CIRCULE A OPÇÃO ESCOLHIDA.



MATEMÁTICA

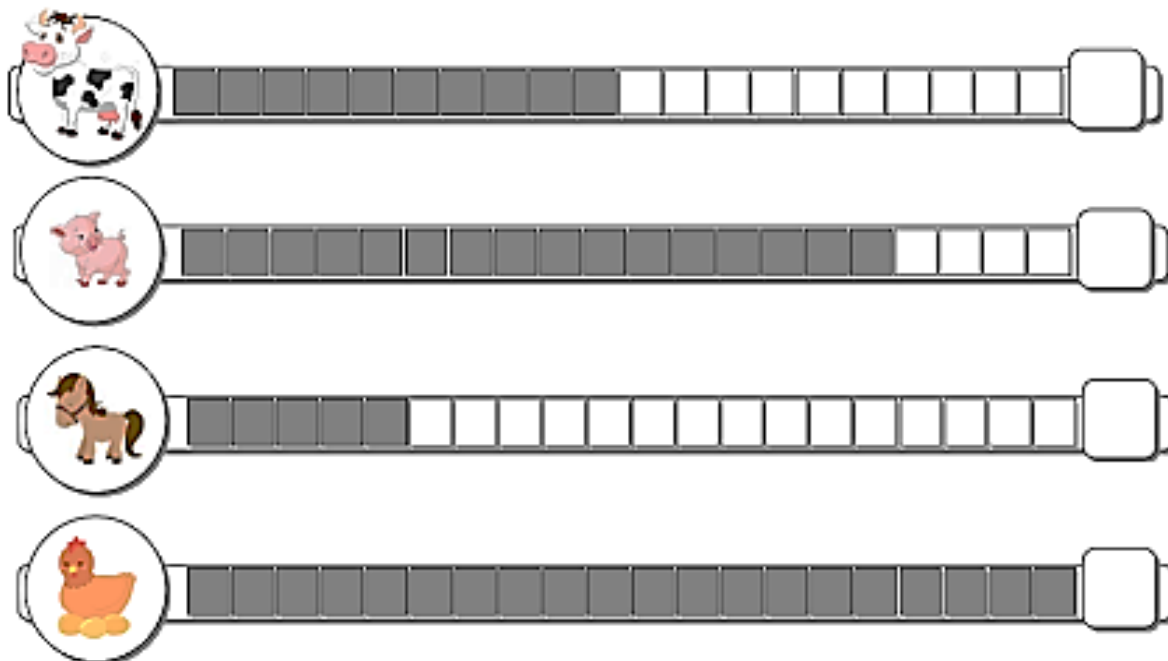
ASSISTA A VÍDEOAULA: <https://www.youtube.com/watch?v=gPoVR12JTgw&t=2036s>

TABELAS E GRÁFICOS

TABELAS E GRÁFICOS SÃO RECURSOS BASTANTE UTILIZADOS PARA REPRESENTAR RESULTADOS DE PESQUISAS E INFORMAÇÕES DE FORMA ORGANIZADA. COM ELES, PODEMOS VISUALIZAR UM GRANDE NÚMERO DE INFORMAÇÕES NUMÉRICAS EM UM PEQUENO ESPAÇO, O QUE FACILITA A LEITURA, A INTERPRETAÇÃO E A UTILIZAÇÃO DESSES RESULTADOS.

ATIVIDADES

- 1- OBSERVE NA TABELA A QUANTIDADE DE ALGUNS ANIMAIS QUE ANA OBSERVOU NO SÍTIO E, DEPOIS ESCREVA O NÚMERO CORRESPONDENTE:



- 2- RESPONDA:

A) QUANTAS VACAS ANA VIU NO SÍTIO DO TITIO? _____

B) ANA VIU MAIS CAVALOS OU PORCOS? _____

C) QUE ANIMAL APARECE EM MENOR QUANTIDADE? _____

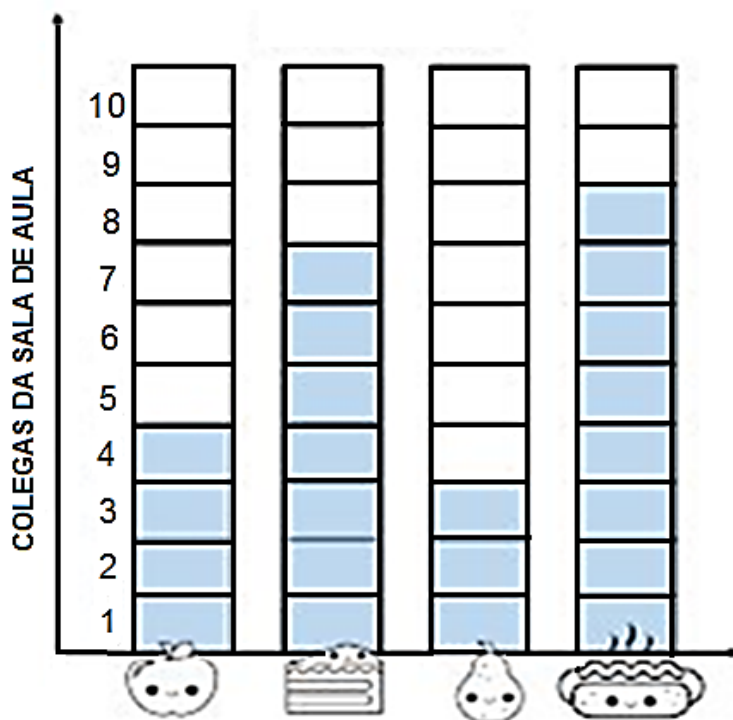
D) QUAL ANIMAL APARECE EM MAIOR QUANTIDADE? _____

E) QUANTOS ANIMAIS ANA VIU AO TODO NO SÍTIO? _____



AS MENINAS FIZERAM UMA PESQUISA NA SALA DE AULA PARA SABER QUAL LANCHE OS COLEGUINHAS GOSTAVAM MAIS. OBSERVE O GRÁFICO E VEJA COMO FICOU.

LANCHE PREFERIDO



1- QUAL LANCHE FOI MAIS VOTADO?

2- QUAL LANCHE FOI MENOS VOTADO?

3- QUANTAS CRIANÇAS PREFERIRAM MAÇÃ?

4- QUANTAS CRIANÇAS PARTICIPARAM DA PESQUISA?

5- QUAL A DIFERENÇA DE VOTOS ENTRE O CACHORRO-QUENTE E A PÊRA?

LÍNGUA PORTUGUESA

ASSISTA A VIDEOAULA: <https://www.youtube.com/watch?v=JT7QQGRfvic>

1- VAMOS REALIZAR A LEITURA DE MAIS UM CORDEL, PEÇA AJUDA A UM FAMILIAR SEU. DEPOIS, REALIZE AS ATIVIDADES.

PALHACINHO DE CORDEL

Palhaço palhacinho
Leva um tapa cai no chão
Nariz de bola vermelho
Um comprido sapatão
Uma cara colorida
Suspensório e calção



Pulando no picadeiro
Saltando feito peteca
Quando cai sua cartola
Aparece a careca
Bate uma torta na cara
E se enche de meleca

O palhaço é engraçado
Quando chora e quando não
Ele veio do distante
Mundo da imaginação
O palhaço é o rei do circo
Dono do meu coração

A) COMPLETE OS VERSOS DE ACORDO COM O CORDEL.

- LEVA UM TAPA E CAI NO _____
- NARIZ DE _____ VERMELHO.
- UMA CARA _____

B) COMPLETE AS RIMAS DAS PALAVRAS ABAIXO.

PETECA	⇒	<input type="text"/>	<input type="text"/>
CHÃO	⇒	<input type="text"/>	<input type="text"/>
NÃO	⇒	<input type="text"/>	<input type="text"/>

C) ESCREVA O NOME DAS FIGURAS ABAIXO.



NUMA FRASE QUE HÁ
ESPANTO, ADMIRAÇÃO,
EMOÇÃO, SURPRESA, USA-SE O
SINAL DE **EXCLAMAÇÃO!**



NUMA FRASE QUE HÁ UMA
PERGUNTA, USA-SE O SINAL DE
INTERROGAÇÃO.



- PONTUE AS FRASES CORRETAMENTE, USANDO OS PONTOS DE EXCLAMAÇÃO OU INTERROGAÇÃO.



QUANTAS HORAS




FELIZ ANIVERSÁRIO



DE QUEM É ESTE PAR DE MEIAS



OH, QUE SUSTO



ESCOLA MUNICIPAL SÃO FERNANDO.
ROLÂNDIA, 13 DE AGOSTO DE 2020.
QUINTA-FEIRA – DISCIPLINAS: LÍNGUA PORTUGUESA E ENSINO RELIGIOSO.

LÍNGUA PORTUGUESA

ASSISTA A VIDEOAULA: <https://www.youtube.com/watch?v=o-xCoE1LCh0>

O QUE É ENTREVISTA

É UMA CONVERSA DE PERGUNTAS E RESPOSTAS ENTRE DUAS OU MAIS PESSOAS EM QUE AS PERGUNTAS SÃO FEITAS AO ENTREVISTADO PARA SE OBTER AS INFORMAÇÕES NECESSÁRIAS DENTRO DE UM DETERMINADO TEMA EM QUE ELE SE DESTAQUE. AS ENTREVISTAS PODEM SER FILMADAS, ESCRITAS OU FALADAS.



1- COM AJUDA DE UM FAMILIAR, LEIA O TEXTO ABAIXO E REALIZE AS ATIVIDADES.

ROTEIRO DE PERGUNTAS

- 1) Qual a sua metodologia ou prática diária de ensino?
- 2) Como você trabalha com a disciplina da classe?
- 3) Como você lida com questões afetivas de seus alunos?
- 4) Como você trabalha com grupos em sala de aula?
- 5) Como você trabalha com duplas?

A) DE ACORDO COM ESSAS PERGUNTAS, QUEM ESTÁ SENDO ENTREVISTADO?

B) QUEM VOCÊ IMAGINA QUE ESTÁ REALIZANDO A ENTREVISTA?

C) COMPLETE O NOME DA FIGURA ABAIXO COM AS SÍLABAS QUE FALTAM.



PRO _____ SSO _____

➤ QUANTAS SÍLABAS ESSA PALAVRA TEM? _____

ENSINO RELIGIOSO

ASSISTA A VIDEOAULA: <https://www.youtube.com/watch?v=vmNPGmV4fgc>

FESTAS E SÍMBOLOS RELIGIOSOS

02 DE FEVEREIRO - FESTA DE IEMANJÁ




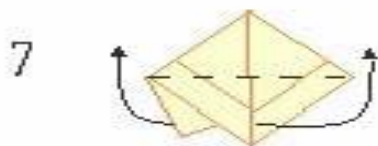
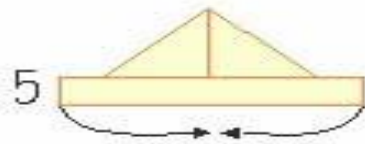
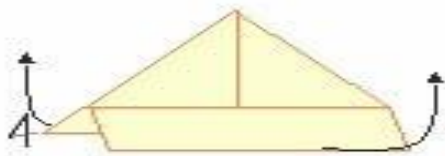
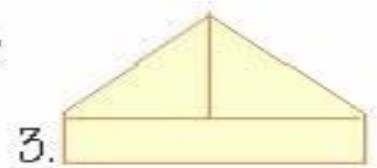
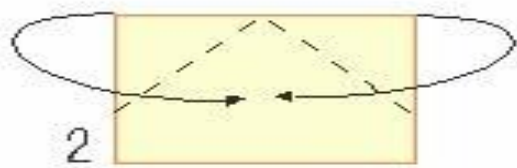
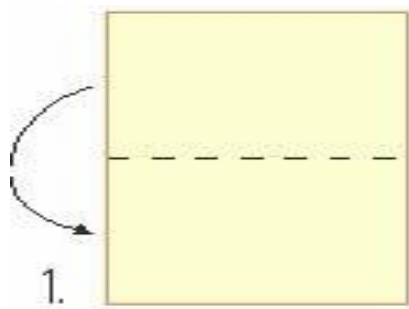
ORIGEM

IEMANJÁ:

QUANDO SE COMEMORA

NO BRASIL O DIA DE IEMANJÁ É COMEMORADO NO DIA 02 DE FEVEREIRO, ONDE SE REALIZAM VÁRIOS RITUAIS. NORMALMENTE NO DIA DE IEMANJÁ AS PESSOAS SE VESTEM DE BRANCO OU AZUL E VÃO ATÉ AS PRAIAS FAZER OFERENDAS A DEUSA, DEPOSITANDO OBJETOS EM UM PEQUENO BARCO OU JOGANDO NO MAR, (PERFUMES, JOIAS, COMIDAS, ESPELHO, PENTE, FLORES E ROSAS BRANCAS E ETC). TUDO QUE SE REMETE A IEMANJÁ TEM A COR AZUL QUE SIMBOLIZA O AZUL DO MAR.

- 1) JUNTO COM SUA FAMÍLIA REALIZE UMA DOBRADURA DE BARCO (SEGUINDO AS ORIENTAÇÕES ABAIXO), DECORE COM DESENHOS (FLORES, PENTE, CONCHINHAS, ESPELHO) E COLE NO ESPAÇO ABAIXO. NAS LINHAS ESCREVA UM PEDIDO PARA ESSA QUARENTENA.



ESCOLA MUNICIPAL SÃO FERNANDO.

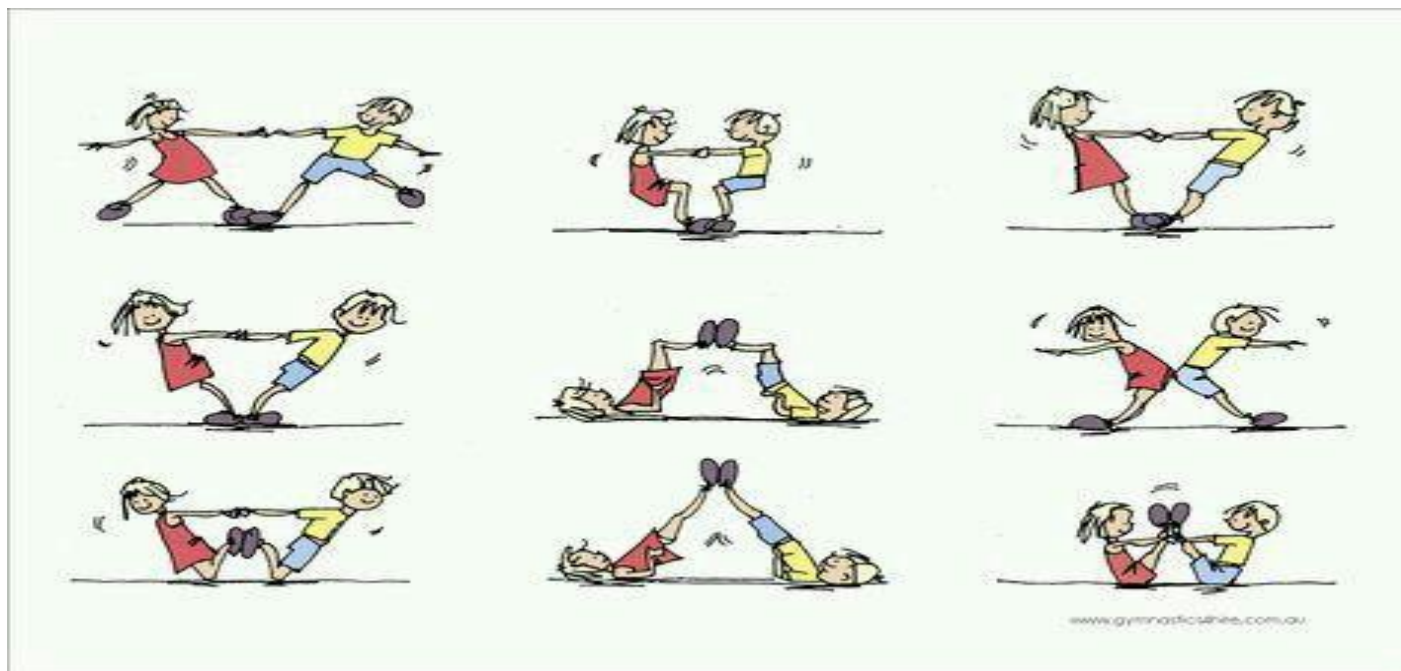
ROLÂNDIA, 14 DE AGOSTO DE 2020.

SEXTA-FEIRA – DISCIPLINAS: EDUCAÇÃO FÍSICA - ARTE E LÍNGUA INGLESA

EDUCAÇÃO FÍSICA

COMO VAMOS ESTUDAR ESSES CONTEÚDOS

ANTES DE COMEÇAR A BRINCADEIRA NÃO DEIXE DE ALONGAR, ABAIXO IMAGEM DE DICA DE ALONGAMENTO QUE VOCÊ PODE FAZER COM ALGUÉM DA SUA FAMÍLIA.



COMO BRINCAR? CHAME TODOS QUE MORAM COM VOCÊ PRA BRINCAR, QUANTO MAIS PESSOAS, MELHOR.

QUEM VAI SER O GANSO. DEPOIS, TODOS FAZEM UMA RODA E SENTAM.

O GANSO VAI ANDANDO E TOCANDO NA CABEÇA DOS AMIGUINHOS E DIZENDO: "PATO, PATO, PATO, GANSO!".

A PESSOA EM QUE ELA TOCAR QUANDO DISSER "GANSO" TEM QUE LEVANTAR E CORRER ATRÁS DO OUTRO. SE CONSEGUIR ALCANÇÁ-LO, ELA GANHA E O OUTRO VOLTA A SER O GANSO. MAS SE ELE CONSEGUIR SENTAR NO LUGAR VAZIO DA RODA ANTES, É O ESCOLHIDO QUE TEM QUE VIRAR GANSO DA VEZ.

QUEM FOR PEGO DUAS VEZES VAI PARA O MEIO DA RODA, ENQUANTO OS OUTROS CANTAM A MÚSICA ABAIXO, E FICAM LÁ ATÉ ACABAR A BRINCADEIRA.

LETRA DE MÚSICA:

**"GALINHA CHOCA
QUEBROU O OVO
E SAIU MINHOCA."**

VARIAÇÃO PARA ESTA BRINCADEIRA É TENTAR ALCANÇAR O ADVERSÁRIO COM UMA BOLA, ASSIM VOCÊ PODERÁ ARREMESSÁ-

DE QUE FORMA VAMOS REGISTRAR O QUE APRENDEMOS?

O ALUNO DEVERÁ COLOCAR A DATA, ESCREVER ATIVIDADE DE EDUCAÇÃO FÍSICA, COLOCAR O TÍTULO JOGOS E BRINCADEIRAS E DESCREVER A ATIVIDADE QUE FOI REALIZADA NESSE DIA PARA FICAR REGISTRADO NO ROTEIRO.

ARTE

ASSISTIR A VÍDEOAULA: <https://www.youtube.com/watch?v=As-6VkVfiVk>

AS **CANTIGAS DE RODA** SÃO MÚSICAS FOLCLÓRICAS CANTADAS EM UMA RODA. TAMBÉM CONHECIDAS COMO **CIRANDAS**, ELAS REPRESENTAM ASPECTOS LÚDICOS DAS MANIFESTAÇÕES SOCIOCULTURAIS POPULARES.

ATIVIDADE DA SEMANA: PERCUSSÃO CORPORAL COM CANTIGAS FOLCLÓRICAS.

- ACESSE O LINK: DAS CANTIGAS DE RODAS, CANTE E BRINQUE JUNTO COM SEUS FAMILIARES.
- ESCRAVO DE JÓ: <https://www.youtube.com/watch?v=00UHKdIERfg>
- CIRANDA CIRANDINHA: <https://www.youtube.com/watch?v=qzEchMqqcuE&t=31s>
- PAI FRANCISCO: <https://www.youtube.com/watch?v=FrRL0rrE1E>

ESCRAVOS DE JÓ	CIRANDA CIRANDINHA	PAI FRANCISCO
ESCRAVOS DE JÓ JOGAVAM CAXANGÁ TIRA, BOTA DEIXA FICAR GUERREIROS COM GUERREIROS FAZEM ZIGUE ZIGUE ZA	CIRANDA, CIRANDINHA VAMOS TODOS CIRANDAR VAMOS DAR A MEIA VOLTA VOLTA E MEIA, VAMOS DAR O ANEL QUE TU ME DESTE ERA VIDRO E SE QUEBROU O AMOR QUE TU ME TINHAS ERA POUCO E SE ACABOU	PAI FRANCISCO ENTRou NA RODA TOCANDO SEU VIOLÃO (BALALAN, BAN, BAN, BAN, BAN)
ESCRAVOS DE JÓ JOGAVAM CAXANGÁ TIRA, BOTA DEIXA FICAR GUERREIROS COM GUERREIROS FAZEM ZIGUE ZIGUE ZA	POR ISSO DONA CHICA ENTRE DENTRO DESSA RODA DIGA UM VERSO BEM BONITO	VEM DE LÁ SEU DELEGADO E O PAI FRANCISCO FOI PRA PRISÃO COMO ELE VEM TODO REQUEBRADO PARECE UM BONECO DESENGONÇADO

ESCOLHA UMA DAS CANÇÕES ACIMA.

CANTE-A CRIANDO ALGUMA PERCUSSÃO CORPORAL, (BATENDO PALMAS, PÉS, ESTALANDO OS DEDOS E A LÍNGUA).

NÃO SE ESQUEÇA DO RITMO E DIVIRTA-SE COM SUA FAMÍLIA.

DEPOIS QUE VOCÊ EXPLOROU CADA CANÇÃO, ESCOLHA UMA DELAS E REGISTRE-A POR MEIO DE DESENHO EM SEU CADERNO.

LEMBRE-SE VOCÊ É O ARTISTA, DEIXE-O BEM COLORIDO E UTILIZE TODOS OS ESPAÇOS DA FOLHA.

LÍNGUA INGLESA

ASSISTIR A VÍDEOAULA: <https://www.youtube.com/watch?reload=9&v=QUwgh-4b7Bw>

NUMBERS - NÚMEROS

1 - ONE	11 - ELEVEN
2 - TWO	12 - TWELVE
3 - THREE	13 - THIRTEEN
4 - FOUR	14 - FOURTEEN
5 - FIVE	15 - FIFTEEN
6 - SIX	16 - SIXTEEN
7 - SEVEN	17 - SEVENTEEN
8 - EIGHT	18 - EIGHTEEN
9 - NINE	19 - NINETEEN
10 - TEN	20 - TWENTY

NÚMEROS DE 0 A 20

1- COMBINE OS NÚMEROS COM AS PALAVRAS.

	12	
	0	
SIX	5	SIXTEEN
	13	
FIVE	16	SEVENTEEN
	6	
TWELVE	14	ZERO
	1	
THIRTEEN	15	THREE
	7	
ELEVEN	17	FOURTEEN
	3	
FOUR	11	TEN
	20	
FIFTEEN	18	ONE
	2	
TWENTY	4	SEVEN
	10	
NINE	19	NINETEEN
	9	
EIGHTEEN	8	EIGHT



ROTEIRO DE ATIVIDADES COMPLEMENTARES DE ESTUDO – COVID 19
14º ROTEIRO

ESCOLA MUNICIPAL SÃO FERNANDO

PROFESSORA: DANIELA, DENISE, ISABEL MARIA DOS SANTOS.

TURMA: 1º ANO CLASSE ESPECIAL COMPONENTES CURRICULARES: ARTE, EDUCAÇÃO FÍSICA, INGLÊS, LÍNGUA PORTUGUESA, MATEMÁTICA, HISTÓRIA, GEOGRAFIA, CIÊNCIAS E ENSINO RELIGIOSO. PERÍODO DE REALIZAÇÃO: 10 A 14 DE AGOSTO.

Senhores pais e responsáveis

Vocês estão recebendo as **Atividades Complementares de Estudo para o período de isolamento-COVID 19**. Necessito muito de sua participação para que essas atividades sejam realizadas pelo seu filho. Os senhores precisam organizar um tempo, em casa, para a realização das atividades e para que seu filho possa estudar com tranquilidade.

No roteiro a seguir estão as atividades e todas as orientações para sua execução. Tudo está descrito de forma simples. Mas se houver alguma dúvida podem entrar em contato comigo pelo *Whatsapp*, estarei à disposição para ajudar. Seu filho deverá realizar todas as atividades no **caderno de casa**. Ele terá o período de 10 a 14 de Agosto para concluir essas atividades.

Cuidem-se e cuidem de sua família. Em breve tudo estará bem.

Um abraço

**O QUE VOCÊ
VAI ESTUDAR:**

Língua Portuguesa:

- Legenda foto/ álbum e entrevista.
- Personagens do circo Mágico, palhaça e malabarista.

Matemática:

- Medidas de comprimento.
- Problemas envolvendo diferentes significados das operações fundamentais: adição e subtração.

História:

- As diferentes manifestações culturais dos grupos de convívio: família, escola e comunidade.

	<p>Ensino Religioso</p> <ul style="list-style-type: none"> • O eu, o outro e o nós. Imanência e transcendência. <p>Geografia:</p> <ul style="list-style-type: none"> • Paisagem dos lugares de vivência e suas transformações. <p>Ciências:</p> <ul style="list-style-type: none"> • A vida nas regiões geladas da Terra. <p>Educação Física:</p> <ul style="list-style-type: none"> • Ginástica geral e o reconhecimento do corpo. <p>Arte:</p> <ul style="list-style-type: none"> • Percussão Corporal. MÚSICA: repertório brasileiro: canções e brincadeiras. Materialidades: repertório brasileiro canções e brincadeiras, jogos musicais: percussão corporal em cantigas de roda. Matrizes estéticas culturais: reconhecimento de distintas matrizes estéticas e culturais. <p>Inglês:</p> <ul style="list-style-type: none"> • Colors: cores.
<p>PARA QUE VAMOS ESTUDAR ESSES CONTEÚDOS?</p>	<ul style="list-style-type: none"> • Distinguir as letras de outros sinais gráficos, a fim de compreender o alfabeto e perceber sua funcionalidade na escrita. • Relacionar oral e escrita para reconhecer palavras ou parte de palavras. • Relacionar elementos sonoros (sílabas, fonemas, partes de palavras) com sua representação escrita, visando à apropriação do sistema alfabético, como meio de comunicação e de representação de ideias. • Conhecer instrumentos utilizados para medir. • Estabelecer relação entre numeral e quantidade. • Resolver situações problemas. • Conhecer o contexto cultural e/ ou regional das festas e comemorações. • Conhecer e respeitar o patrimônio e a diversidade cultural, entendendo-os como direito dos povos e sociedades. • Identificar características das paisagens naturais e modificadas. • Descrever características observadas de seus lugares de vivência (moradia, escola, comunidade, etc.) E identificar semelhanças e diferenças entre esses lugares, dando enfoque aos atributos e funções. • Participar da ginástica geral, identificando e vivenciando as potencialidades e os limites do corpo. • Identificar o nome de algumas cores em inglês, reconhecer sua forma escrita e aprender a pronunciar corretamente essas palavras. • <p>brincadeiras cantadas e rítmicas. Jogos musicais: de mãos, cantigas de roda, parlendas, brincadeiras cantadas e rítmicas.</p>

	<ul style="list-style-type: none"> • Cantar músicas e executar jogos e brincadeiras cantadas, do repertório musical brasileiro, identificando gêneros musicais variados, percebendo a diversidade existente. • Reconhecer e analisar a influência de distintas matrizes estéticas e culturais das artes visuais nas manifestações artísticas das culturas locais, regionais.
<p>Como vamos estudar os conteúdos?</p>	<ul style="list-style-type: none"> ➤ Com ajuda de algum familiar; ➤ Organize seus estudos; ➤ Em seu caderno coloque a data em que irá realizar as atividades; ➤ Assista as vídeos aulas pedidas pela professora! ➤ Organizando seus estudos com ajuda dos familiares, fazendo as atividades propostas, assistindo o vídeo da professora e das videoaulas paraná município (se puder) ➤ No caderno ou na folha impressa utilizando lápis de escrever e lápis de cor quando necessário. <hr/> <p>Legenda de fotos</p>
<p>Como vamos registrar o que aprendemos?</p>	<p>O que compramos por metro?</p> <p>Situações problema de adição e subtração</p> <p>Escrita de legendas nas fotos</p> <p>Personagens de um circo.</p> <p>Primeiro coloque a data, escreva o seu nome. Depois relembre o nome das cores junto com a professora e pinte a atividade na cor certa e com capricho.</p>

Assista as videoaulas pela televisão canal 5.2 ou 5.3 diariamente:

13:30 às 14:15hr.

14:15 às 15:00hr.

15:00 às 15:30hr.

eve escola Curitiba, onde aparece todos os vídeos disponíveis desse canal. Site da Prefeitura Municipal de Rolândia.

ATENÇÃO: O PROFESSOR REGENTE ESTARÁ DISPONÍVEL PARA ESCLARECER DÚVIDAS SOBRE AS ATIVIDADES NOS SEGUINTE DIAS: SEGUNDA, TERÇA, QUARTA E SEXTA NO SEU HORÁRIO DE TRABALHO. NA QUINTA-FEIRA ELE ESTARÁ EM PLANEJAMENTO, SENDO ASSIM, QUEM DARÁ AS ORIENTAÇÕES SERÃO OS PROFESSORES DE ESPECÍFICAS.

GRATA PELA COMPREENSÃO.

ESCOLA MUNICIPAL SÃO FERNANDO.

ROLÂNDIA, 10 DE AGOSTO DE 2020.

SEGUNDA- FEIRA.



LÍNGUA PORTUGUESA

AULA ONLINE: <https://www.youtube.com/watch?v=zMGvAku8rtU>

Língua Portuguesa -1º ano 27/07

AS LEGENDAS DE FOTOGRAFIAS SÃO TEXTOS BREVES QUE, NORMALMENTE, OCORREM SOBREPOSTOS A UMA IMAGEM COM A FINALIDADE DE ESCLARECER ELEMENTOS LIGADOS AO QUE ESTÁ REPRESENTADO VISUALMENTE, MAS QUE NÃO PODEM SER PRECISADOS POR QUEM OBSERVA A IMAGEM.

1- OBSERVE AS FOTOS E RELACIONE AS SUAS RESPECTIVAS LEGENDAS:



()	()	()
DURANTE O RECREIO AS CRIANÇAS GOSTAM DE PULAR CORDA.	MARIANA PULANDO AMARELINHA.	OS MENINOS DA ESCOLA SÃO FERNANDO JOGANDO FUTEBOL NA AULA DE EDUCAÇÃO FÍSICA.

ENSINO RELIGIOSO

ASSISTA O VIDEO: <https://youtu.be/BwRfCxTnwik>

E VOCÊ VAI CONHECER CRIANÇAS DE DIFERENTES LUGARES DO MUNDO, SUAS CARACTERÍSTICAS, SEMELHANÇAS E DIFERENÇAS.



ETNIA: UM GRUPO ÉTNICO É UM GRUPO DE PESSOAS QUE SE IDENTIFICAM OU SÃO IDENTIFICADOS UMAS COM AS OUTRAS COM BASE EM SEMELHANÇAS, CULTURAIS E/OU BIOLÓGICAS. NOSSO PLANETA TEM MUITAS ETNIAS DIFERENTES.

R	A	Ç	A	T	M	C	B	A	C
M	U	C	D	A	I	V	R	L	A
L	E	P	E	L	E	L	A	I	B
P	O	V	O	D	Z	I	N	O	E
A	V	P	Q	A	U	T	C	M	L
O	J	S	N	E	G	R	O	T	O
C	U	L	T	U	R	A	F	Ç	A

GEOGRAFIA

Vídeo: https://youtube.com/watch?v=OezUjIUE_2A

1) COM A AJUDA DE UM FAMILIAR OBSERVE A PAISAGEM EXISTENTE AO REDOR DO ESPAÇO ONDE ESTÁ CONSTRUÍDA A CASA QUE VOCÊ MORA E RESPONDA:

A) ESTA PAISAGEM É NATURAL OU FOI MODIFICADA?

NATURAL FOI MODIFICADA

B) SE FOI MODIFICADA, COMO VOCÊ ACHA QUE ERA ANTES DA (S) CONSTRUÇÃO (ÇÕES)?

MUITAS ÁRVORES MONTANHAS PASTO RIO/LAGO

MUITO MATO FLORES

C) EXISTE ALGUMA PAISAGEM EM CONSTRUÇÃO (SENDO MODIFICADA AÍ PERTO DA SUA CASA)?

SIM NÃO

D) SE VOCÊ RESPONDEU QUE A PAISAGEM AO REDOR DO ESPAÇO ONDE ESTÁ SUA CASA, FOI MODIFICADA. ENTÃO, FAÇA UM LINDO DESENHO DE COMO VOCÊ IMAGINA QUE SERIA ANTES DA TRANSFORMAÇÃO, DE ACORDO COM A RESPOSTA DA QUESTÃO A.



ESCOLA MUNICIPAL SÃO FERNANDO.

ROLÂNDIA, 11 DE AGOSTO DE 2020.

TERÇA-FEIRA

CIÊNCIAS

ASSISTA O VÍDEO <https://youtu.be/IT0kSd-mwuk>

E VOCÊ VAI APRENDER SOBRE: A VIDA NAS REGIÕES GELADAS DA TERRA.

01) DESEMBARALHE AS LETRAS E FORME PALAVRAS:



MATEMÁTICA

AULA ONLINE: <https://www.youtube.com/watch?v=tmpkuCNe1AI>

Matemática - 1º ano – 27/07

MEDIDAS DE COMPRIMENTO: TUDO SOBRE MEDIDAS

O METRO É A UNIDADE DE MEDIDA DE COMPRIMENTO.

COM ELE PODEMOS MEDIR O COMPRIMENTO, A LARGURA OU A ESPESSURA DE OBJETOS, A ALTURA DAS PESSOAS, ETC.

VEJA ALGUNS OBJETOS USADO PARA MEDIR:



METRO

ARTICULADO

TRENA

RÉGUA




METRO

FITA METRICA

1- COMPLETE AS FRASES USANDO OS NOMES DOS INSTRUMENTOS ACIMA:

- A) A COSTUREIRA USA A _____ PARA TIRAR AS MEDIDAS.
B) O ALUNO USA A _____ NA ESCOLA.
C) O VENDEDOR USA A _____ PARA MEDIR O TECIDO.
D) O PEDREIRO USA A _____ E O METRO _____ PARA MEDIR O METRO.

2- PINTE O QUE COMPRAMOS POR **METRO**.



ESCOLA MUNICIPAL SÃO FERNANDO.

ROLÂNDIA, 12 DE AGOSTO DE 2020.

QUARTA- FEIRA.

HISTÓRIA

VÍDEO: https://youtube.com/watch?v=5T-DB_30iOQ

ATIVIDADE: NO BRASIL ENCONTRAMOS UMA DIVERSIDADE DE MANIFESTAÇÕES CULTURAIS. ENCONTRE NO CAÇA- PALAVRAS ALGUMAS DESTAS MANIFESTAÇÕES.

C	Í	R	I	O	*	D	E	*	N	A	Z	A	R	É
M	A	B	C	D	E	F	G	H	I	J	K	L	M	N
A	X	C	O	N	G	A	D	A	O	P	Q	R	C	S
R	E	I	S	A	D	O	T	U	V	X	W	Y	A	Z
A	A	B	C	D	E	F	G	H	I	J	U	L	V	M
B	N	O	P	Q	R	S	T	U	V	X	B	Y	A	Z
A	A	B	C	D	E	F	G	H	I	J	K	L	L	M
I	N	O	P	Q	R	S	T	U	V	X	G	Y	H	Z
X	A	B	C	D	E	F	G	H	I	J	K	L	A	M
O	K	T	O	B	E	R	F	E	S	T	N	H	D	O
P	Q	R	S	T	U	V	X	W	Y	Z	A	B	A	C
T	I	C	U	M	B	I	D	E	F	G	H	I	J	K
F	E	S	T	A	*	D	O	*	D	I	V	I	N	O

PALAVRAS: CÍRIO DE NAZARÉ, MARABAIXO, TICUMBI, OKTOBERFEST, REISADO, CONGADA, CAVALHADA, FESTA DO DIVINO.

MATEMÁTICA

AULA ONLINE: <https://www.youtube.com/watch?v=XmRy9U-sfW8>

1- VAMOS RESOLVER OS PROBLEMAS, COM OPERAÇÃO E DESENHO:

1- ALEX TINHA 7 REAIS E GANHOU MAIS 6 DE SUA MÃE. COM QUANTOS REAIS ELE FICOU?

2- NUM ÁLBUM HÁ 9 FIGURINHAS DE ANIMAIS E 4 FIGURINHAS DE FLORES. AO TODO, QUANTAS FIGURINHAS HÁ NESSE ÁLBUM?

3- CARLOS TINHA 8 BOLINHAS DE GUDE E DEU 3 AO SEU PRIMO JÚLIO. COM QUANTAS BOLINHAS DE GUDE CARLOS FICOU?

4- MAMÃE TINHA UM VASO COM 6 ROSAS, 2 MURCHARAM. QUANTAS ROSAS SOBRARAM NO VASO?

LÍNGUA PORTUGUESA

AULA ONLINE: https://www.youtube.com/watch?v=bEVZ_Z9f7iM

Língua Portuguesa - 1º ano - 30/07

☺ OBSERVE A PALAVRA:

PALHAÇO		
NÚMERO DE VOGAIS	NÚMERO DE CONSOANTES	TOTAL DE LETRAS



☺ SEPARE EM SÍLABAS:

PALHAÇO		

☺ O PALHAÇO TRABALHA:

- () NO CIRCO
- () NA ESCOLA
- () NA PADARIA



☺ PINTE NO QUADRO ABAIXO AS PERSONAGENS DO CIRCO.

MÁGICO	PADEIRO	EQUILIBRISTA
MECÂNICO	TRAPEZISTA	MÉDICO
PROFESSORA	BAILARINA	PEDREIRO
PALHAÇO	MOTORISTA	MALABARISTA

ESCOLA MUNICIPAL SÃO FERNANDO.

ROLÂNDIA, 13 DE AGOSTO DE 2020.

QUINTA- FEIRA.

ARTE

AS **CANTIGAS DE RODA** SÃO MÚSICAS FOLCLÓRICAS CANTADAS EM UMA RODA. TAMBÉM CONHECIDAS COMO **CIRANDAS**, ELAS REPRESENTAM ASPECTOS LÚDICOS DAS MANIFESTAÇÕES SOCIOCULTURAIS POPULARES.

❖ **ATIVIDADE DA SEMANA: PERCUSSÃO CORPORAL COM CANTIGAS FOLCLÓRICAS.**

- ACESSE O LINK: DAS CANTIGAS DE RODAS, CANTE E BRINQUE JUNTO COM SEUS FAMILIARES.
- ESCRAVO DE JÓ: <https://www.youtube.com/watch?v=00UHKdIERfg>
- CIRANDA CIRANDINHA: <https://www.youtube.com/watch?v=qzEchMqgcuE&t=31s>

ESCRAVOS DE JÓ	CIRANDA CIRANDINHA	PAI FRANCISCO
ESCRAVOS DE JÓ JOGAVAM CAXANGÁ TIRA, BOTA DEIXA FICAR GUERREIROS COM GUERREIROS FAZEM ZIGUE ZIGUE ZA	CIRANDA, CIRANDINHA VAMOS TODOS CIRANDAR VAMOS DAR A MEIA VOLTA VOLTA E MEIA, VAMOS DAR O ANEL QUE TU ME DESTE ERA VIDRO E SE QUEBROU O AMOR QUE TU ME TINHAS ERA POUCO E SE ACABOU POR ISSO DONA CHICA ENTRE DENTRO DESSA RODA DIGA UM VERSO BEM BONITO	PAI FRANCISCO ENTROU NA RODA TOCANDO SEU VIOLÃO (BALALAN, BAN, BAN, BAN, BAN) VEM DE LÁ SEU DELEGADO E O PAI FRANCISCO FOI PRA PRISÃO COMO ELE VEM TODO REQUEBRADO PARECE UM BONECO DESENGONÇADO

ESCOLHA UMA DAS CANÇÕES ACIMA.

CANTE-A CRIANDO ALGUMA PERCUSSÃO CORPORAL, (BATENDO PALMAS, PÉS, ESTALANDO OS DEDOS E A LÍNGUA)

NÃO SE ESQUEÇA DO RITMO E DIVIRTA-SE COM SUA FAMÍLIA.

DEPOIS QUE VOCÊ EXPLOROU CADA CANÇÃO, ESCOLHA UMA DELAS E REGISTRE-A POR MEIO DE DESENHO EM SEU CADERNO.

LEMBRE-SE VOCÊ É O ARTISTA, DEIXE-O BEM COLORIDO E UTILIZE TODOS OS ESPAÇOS DA FOLHA.

- PAI FRANCISCO: <https://www.youtube.com/watch?v=FrRL0rrE1E>

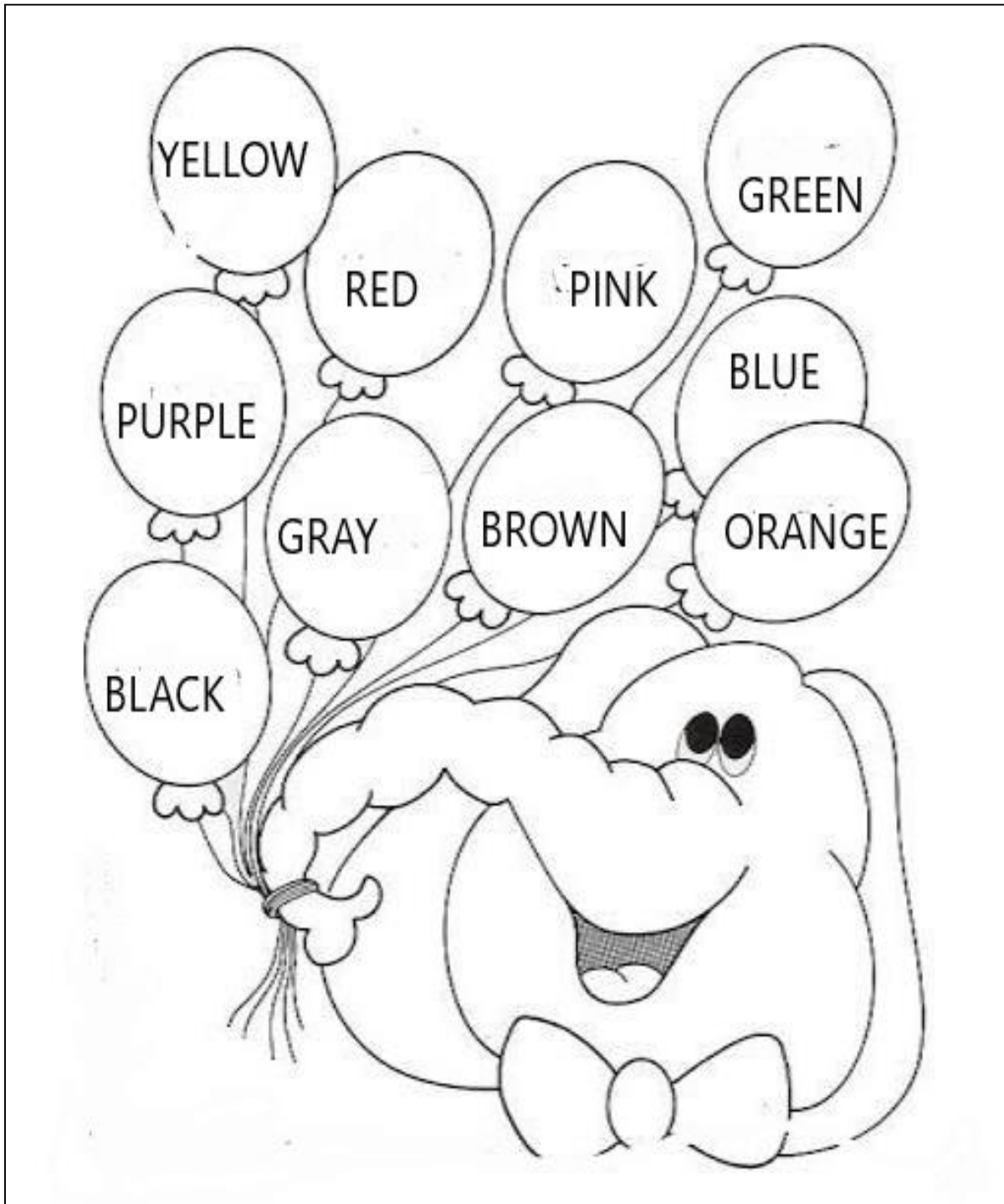
INGLÊS

DATE:AUGUST/_____/2020.

NAME: _____

1- OBSERVE THE NAME OF THE BALLONS COLORS AND PAINT. (OBSERVE O NOME DAS CORES DOS BALÕES E PINTE).

RED	BLUE	YELLOW	ROSA	PURPLE	BLACK	ORANGE	BROWN	GREEN	GRAY
VERMELHO	AZUL	AMARELO	PINK	ROXO	PRETO	LARANJA	MARROM	VERDE	CINZA



EDUCAÇÃO FÍSICA

HOJE IREMOS APRENDER O MOVIMENTO DA PONTE.

1- ALONGAMENTO

- SENTE NO CHÃO, JUNTE OS PÉS, E TENDE ENCOSTAR O QUEIXO NOS PÉS.



- AFASTE UMA PERNA PARA A LATERAL E SEGRE NO PÉ. TENDE ENCOSTAR O QUEIXO NO JOELHO. CONTE ATÉ DEZ E FAÇA DO OUTRO LADO.



- AFASTE AS DUAS PERNAS, SEGRE UMA MÃO EM CADA PÉ E TENDE ENCOSTAR A TESTA OU O QUEIXO NO CHÃO.

2- AQUECIMENTO

- BARATINHA: SENTADO, COM OS JOELHOS FLEXIONADOS, SEGRE AS PERNAS PRÓXIMO AO SEU CORPO E BATA COM A PONTA DOS PÉS NO CHÃO. COMECE DEVAGAR E DEPOIS ACELERE.

- GANGORRA: DEITE E ABRACE AS PERNAS, SEGURA POR DEBAIXO DOS JOELHOS. TENDE FAZER O MOVIMENTO INDO PARA FRENTE E PARA TRÁS. QUANDO FOR PARA FRENTE, TENDE SENTAR SEM ENCOSTAR OS PÉS NO CHÃO.

3- PONTE

- DEITE NO CHÃO, JOELHOS FLEXIONADOS E PÉS NO CHÃO. MÃOS PERTO DA CABEÇA NO CHÃO COM O DEDÃO PRÓXIMO A ORELHA. LEVANTE O TRONCO PARA O ALTO, FORMANDO A PONTE.



4- RELAXAMENTO: CONTINUE DEITADO NO CHÃO E ABRACE UMA PERNA DE CADA VEZ, CONTANDO ATÉ DEZ. DEPOIS ABRACE AS DUAS.



ESCOLA MUNICIPAL SÃO FERNANDO.

ROLÂNDIA, 14 DE AGOSTO DE 2020.

SEXTA- FEIRA

HISTÓRIA

A) COMPLETE COM AS VOGAIS:

___ K T ___ B ___ R F ___ S T

A OKTOBERFEST É UMA FESTA TRADICIONAL ALEMÃ QUE ACONTECE NA CIDADE DE ROLÂNDIA, NO MÊS DE OUTUBRO. TAMBÉM OCORRE EM SANTA CATARINA/BLUMENAU.

B) COM A AJUDA DE UM FAMILIAR RESPONDA:


O QUE ENCONTRAMOS NA OKTOBERFEST QUE SE TORNAM CARACTERÍSTICAS DESTA FESTA, COLOCANDO (V) PARA A RESPOSTA VERDADEIRA, E (F) PARA A RESPOSTA FALSA.

- () DESFILE COM CARROS ALEGÓRICOS/ ENFEITADOS
- () COMEMORAÇÃO DO ANIVERSÁRIO DE ROLÂNDIA
- () TRAJES TÍPICOS ALEMÃES.
- () FESTA RELIGIOSA EM COMEMORAÇÃO AO PADROEIRO DE ROLÂNDIA
- () COMIDAS TÍPICAS ALEMÃS
- () PESCARIA COM PRENDAS
- () APRESENTAÇÃO DE GRUPOS DE DANÇAS
- () CAMPEONATO DE JOGO DE XADREZ
- () VENDAS DE UMA VARIEDADE DE ARTESANATOS
- () MUITA ALEGRIA
- () SÓ TRISTEZA

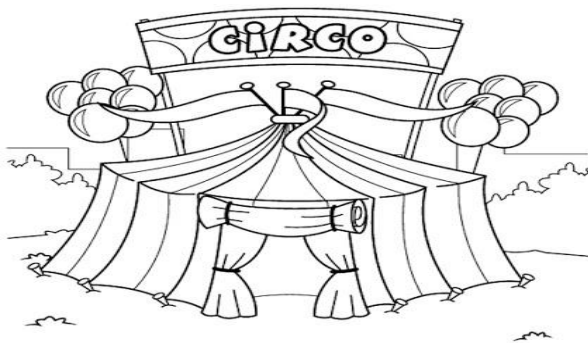
LÍNGUA PORTUGUESA


VÍDEO: <https://www.youtube.com/watch?v=yEk68Lt9WyY>

1- OBSERVE AS FOTOS, CRIE E ESCREVA UMA LEGENDA PARA CADA:









GEOGRAFIA

VIDEO: <https://youtube.com/watch?v=ntReWqrlYbE>

A) COMPLETE A FRASE COM AS VOGAIS (A, E, I, O, U).

N__T__R__Z__ S__MPR__ S__ TR__NSF__RM__.

B) COM A AJUDA DE UM FAMILIAR, FAÇA A LEITURA DO TEXTO ABAIXO.

VOCÊ JÁ DEVE TER PERCEBIDO NA NATUREZA, O PROCESSO DE NASCIMENTO E CRESCIMENTO DE UM PASSARINHO. POR EXEMPLO: ELE NASCE DO OVO, PERMANECE FILHOTINHO POR ALGUM TEMPO, VAI CRESCENDO, APRENDE A VOAR, CRESCE MAIS UM POUCO E SE TORNA UM PÁSSARO ADULTO. TUDO ISSO ACONTECE SEM A INTERFERÊNCIA DO SER HUMANO. COM AS PLANTAS TAMBÉM ACONTECE UM PROCESSO NATURAL PARECIDO.

C) IMAGINE QUE VOCÊ ESTÁ OBSERVANDO UMA MUDA DE ÁRVORE FRUTÍFERA. ELA VAI CRESCENDO, CRESCENDO ATÉ SE TORNAR UMA ÁRVORE ADULTA QUE DÁ FRUTOS. PARA ISTO, É PRECISO RECEBER ÁGUA DA CHUVA E LUZ DO SOL, NÃO É NECESSÁRIO QUE HAJA INTERFERÊNCIA HUMANA, SOMENTE AÇÃO DA NATUREZA. AGORA, FAÇA O DESENHO DESTA CENA.

